



# ქვეყნები

2018-2022  
წლების ეროვნული  
სასწავლო გეგმის  
მისაღწევი  
შედეგებისა და  
ინდიკატორების  
მიხედვით

# 2

ტესტების რვა ნაწილი  
მაია ბლიაძე



განათლების ეროვნული  
ცენტრი

# სარჩევნი

|         |   |    |
|---------|---|----|
| ტესტი 1 | ბუნ.ი.2.<br>მოსწავლემ უნდა შეძლოს სიცოცხლის ძირითადი ნიშნების ამოცნობა  | 4  |
| ტესტი 2 | ბუნ.ი.3.<br>მოსწავლემ უნდა შეძლოს ორგანიზმებისთვის გარემოს მნიშვნელობაზე მსჯელობა   | 20 |
| ტესტი 3 | ბუნ.ი.4.<br>მოსწავლემ უნდა შეძლოს მაგნიტის მოქმედების დახასიათება   | 26 |
| ტესტი 4 | ბუნ.ი.5.<br>მოსწავლემ უნდა შეძლოს სხეულის და მისი შემადგენელი ნივთიერების/<br>მასალის თვისებების დაკავშირება ამ სხეულის დანიშნულებასთან | 29 |
| ტესტი 5 | ბუნ.ი.6.<br>მოსწავლემ უნდა შეძლოს წყლისა და ხმელეთის ობიექტების აღწერა  | 34 |
| ტესტი 6 | ბუნ.ი.7.<br>მოსწავლემ უნდა შეძლოს ყოველდღიურ ცხოვრებაში გამოყენებული<br>ბუნებრივი რესურსების დასახელება და მათ მნიშვნელობაზე მსჯელობა   | 39 |

**1.** ✓-ით მონიშნე ცოცხალი ბუნების ობიექტები.



**2.** გადახაზე ზედმეტი სიტყვები:


- ა.** ცოცხალი ბუნებაა: მზე, ადამიანი, ჰაერი, ცხოველები, ქვები, მცენარეები.
- ბ.** არაცოცხალი ბუნებაა: მცენარეები, სოკოები, ცხოველები, ადამიანი, ვარსკვლავები.

3. გაუსვი ხაზი ცოცხალი ბუნების ობიექტებს.


მზე, ნაძვი, ბაყაყი, ჰაერი, ვარდი, კაქტუსი,  
ვარსკვლავი, კურდღელი, ღრუბელი, ბუზი,  
ნიადაგი, მგელი, წყალი, კოლო.

4. შემოხაზე, რომელ სურათზეა ნაჩვენები კავშირი ცოცხალ და არაცოცხალ ბუნებას შორის:

ა.



ბ.

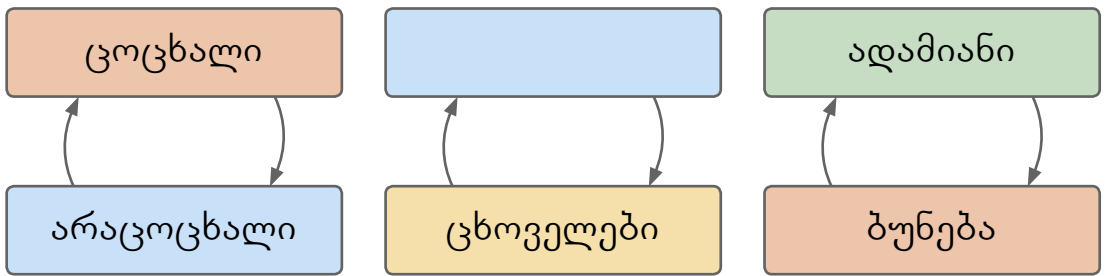


გ.

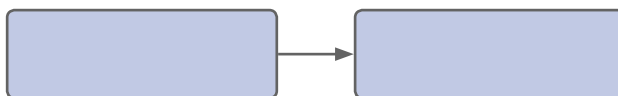




5. ჩასვი გამოტოვებული სიტყვა.



6. სურათის მიხედვით დაადგინე კავშირი ცოცხალ და არაცოცხალ ბუნებას შორის და ჩანერე შესაბამისი სიტყვები.



**7.** შემოხაზე სწორი პასუხი:

**ა.** რა ეხმარება ცხოველებს საკვების მოპოვებაში, თავის დაცვაში, საბინადროს მონყობაში?

სუნთქვა

მოძრაობა

გამრავლება

**ბ.** ჩამოთვლილთაგან რომელს არ ახასიათებს კვება, სუნთქვა, ზრდა, მოძრაობა?

მცენარეს

ცხოველს

ქვას

ადამიანს

**8.** მცენარის ნაწილები ხაზებით დააკავშირე მათ სახელწოდებებთან.

ღერო

ნაყოფი

ყვავილი

ფოთოლი

ფესვი



9. რა არ სჭირდება მცენარეს ზრდა-განვითარებისათვის? შემოხაზე სწორი პასუხი:

სინათლე

ბინა

ნიადაგი

წყალი

10. მცენარისთვის დამახასიათებელ რომელ თვისებას ასახავს სურათები? სწორი პასუხი მონიშნე ✓-ით.



- მცენარე იზრდება.
- მცენარე მოძრაობს.
- მცენარე მრავლდება.

11. რა არის ნაჩვენები სურათზე? სწორი პასუხი მონიშნე ✓-ით.



- მცენარის ზრდის პროცესი
- მცენარის გამრავლება
- მცენარის კურკა და ღერო

12. გადახაზე თითოეულ რიგში ზედმეტი ცხოველი:

ა.





ბ.






**13.** შეადარე ერთმანეთს სურათზე გამოსახული ცხოველები. ნითელ კვადრატებში დანომრე ცხოველები მათი სხეულის ზომის ზრდის მიხედვით, ხოლო ცისფერ კვადრატებში – მათი სხეულების ზომის შემცირების მიხედვით.

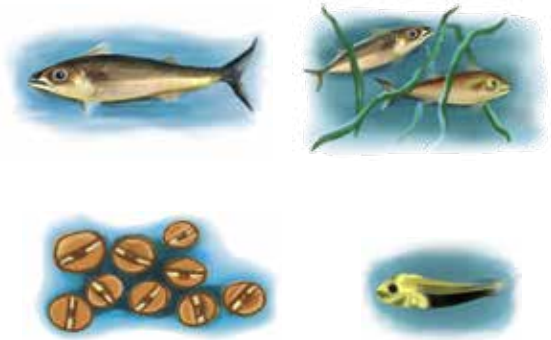


**14.** სურათებზე ისრებით დააკავშირე ცოცხალი ორგანიზმების ზრდა-განვითარების ეტაპები:

ა.



ბ.



გ.



დ.



ე.



ვ.

